

מבחן מחוננים שלב ב' לדוגמה - 2026

כמה מילים להורים לפני שמתחילים

המבחן לדוגמה שלפניכם פותח על בסיס משובים של נבחנים מהשנה שעברה, והוא נועד לספק לכם טעימה ממה שצפוי לילדכם במבחן המחוננים. המבחן ממחיש את סגנון השאלות המופיעות במבחן המחוננים ואת רמת הקושי שלהן, ובדומה למבחן המחוננים, מחולק לשני שלבים – שלב א' ושלב ב'. עם זאת, הוא אינו משקף את מספר השאלות שבמבחן המחוננים או את סדר הופעת הפרקים שבו.

מטבע הדברים המבחן לדוגמה כולל שאלות בודדות, ועל כן אינו מסוגל להמחיש את מידת האינטנסיביות הכרוכה במבחן האמיתי. כמו כן, הוא אינו מדמה את מגבלת הזמן שאיתה יצטרכו הילדים להתמודד. כדי להתכונן לשני אתגרים אלו, ולאטגרים נוספים שמציב מבחן המחוננים, נדרשת הכנה מעמיקה יותר, ואותה תוכלו למצוא בערכת ההכנה שלנו.

הערכה כוללת מאות שאלות לתרגול בכל דרגות הקושי הצפויות במבחן, הסברים מפורטים לכל שאלה, תרגול במגבלת זמן וסימולציות מלאות הניתנות להדפסה.

אני מאחלת לילדכם הצלחה רבה, ומזמינה אתכם לפנות אליי בכל שאלה במייל [ask.daniella@machon-](mailto:ask.daniella@machon-noam.co.il)
noam.co.il

דניאלה

ראש תחום בתי ספר ומחוננים במכון נועם

פרק א' - יחסי מלים

בכל שאלה יש זוג מלים. מצאו את הקשר בין המלים, ובחרו מתוך התשובות המצעות את זוג המלים עם הקשר הדומה ביותר לזה שמצאתם.

1. לעוף : נחליאלי

א. לשאג : אריה

ב. לצוד : אריה

ג. לרוץ : אריה

ד. לאכל : אריה

2. אפדה : בגד

א. גופיה : קיץ

ב. משפחה : בית

ג. מברג : כלי עבודה

ד. צמר : סוודר

פרק ב' - השלמת משפטים

בחרו בתשובה המשלימה את המשפטים הבאים בצורה הטובה ביותר.

1. _____ את מטתי לפני שהלכתי לבית הספר.

א. הלבשתי

ב. ישנתי

ג. קמתי

ד. הצעתי

2. ליהי _____ לחלק עם חברתה את הכריך שהביאה מביתה, משום שהיתה רעבה מאוד ולחברתה היה כריך משלה.

א. סרבה

ב. הסכימה

ג. קרבה

ד. רצתה

פרק ג' - בעיות מלוליות בחשבון

קראו את השאלות הבאות ובחרו את התשובה הנכונה.

1. לפני ההפסקה הראשונה בבית-הספר היו לרון 26 גוגאים. בהפסקה הראשונה בבית-הספר הפסיד רון 17 גוגאים, אך בהפסקה השנייה הרזים 9 גוגאים.

כמה גוגאים נשארו לרון בסוף ההפסקה השנייה?

- א. 9
- ב. 18
- ג. 21
- ד. 22

2. רוני קופצת בדלגית.

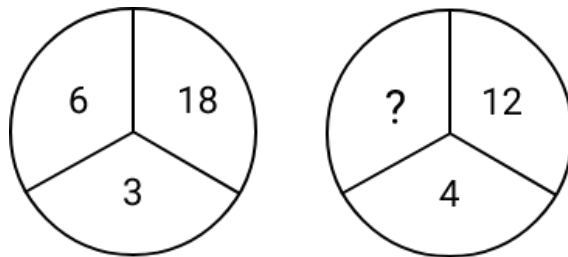
ב-5 שניות רוני קופצת 8 פעמים.

כמה פעמים תקפץ רוני ב-10 שניות?

- א. 10
- ב. 12
- ג. 16
- ד. 50

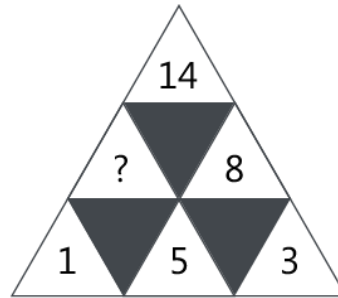
פרק ד - מספרים בצורות

1. איזה מהמספרים שבתשובות יכול להחליף את סימן השאלה?



- א. 6
- ב. 8
- ג. 3
- ד. 4


2. איזה מהמספרים שבתשובות יכול להחליף את סימן השאלה?



- א. 3
- ב. 5
- ג. 6
- ד. 4

פרק ה'- צורות

1. לצורות במשבצות העליונות קימת תקינות והתאמה. בחרו בתשובה שתתאים באותה תקינות והתאמה לצורה במשבצת התחתונה.



א.



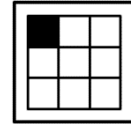
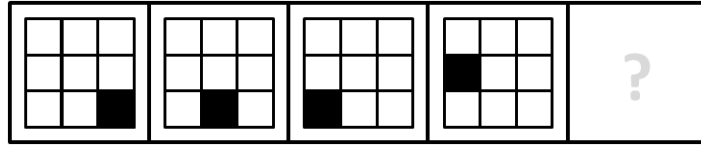
ב.



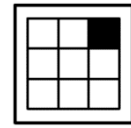
ג.



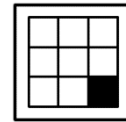
2. בחרו בתשובה המתאימה ביותר להמשיך את הסדרה.



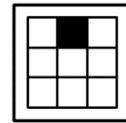
א.



ב.



ג.




ד.


3. לפניכם שטיח שחסרה בו חתיכה. מהי החתיכה החסרה?




א.



ב.



ג.



ד.

תשובות למבחן לדוגמה שלב ב' כיתה ב'

פרק א'- יחסי מילים

שאלה	תשובה נכונה
1	ג
2	ג

פרק ב'- השלמת משפטים

שאלה	תשובה נכונה
1	ד
2	א

פרק ג'- בעיות מילוליות בחשבון

שאלה	תשובה נכונה
1	ב
2	ג

פרק ד- מספרים בצורות

שאלה	תשובה נכונה
1	ג
2	ג

פרק ה- צורות

שאלה	תשובה נכונה
1	ג
2	א
3	ד

הסברים מלאים ושאלות רבות נוספות תוכלו למצוא בערכות ההכנה שלנו.